

БИЛЕТ 81

1 Что обозначает зеленый мигающий сигнал светофора?

1. Разрешает движение.
2. Разрешает движение и информирует, что действие разрешающего сигнала истекает и вскоре будет включен запрещающий сигнал.
3. Предупреждает о предстоящей смене сигналов.

2 Первым проедет перекресток:



1. Водитель трактора.
2. Водитель легкового автомобиля.

Сколько полос для движения имеет данная дорога?



1. Одну.
2. Две.
3. Три.
4. Четыре.

Разрешено ли Вам продолжить движение по второй полосе?



1. Разрешено.
2. Запрещено.
3. Разрешено при скорости движения, более 40 км/ч.

В каком месте Вам запрещено остановиться?



1. На пешеходном переходе.
2. Ближе 5 м перед пешеходным переходом.
3. Сразу за пешеходным переходом.
4. В местах, указанных в пунктах 1 и 2.

БИЛЕТ 81

Что означает желтая сплошная линия разметки?



1. Запрещена остановка.
2. Запрещена стоянка.
3. Место остановки маршрутных транспортных средств.

Разрешено ли Вам продолжить движение?




1. Разрешено.
2. Запрещено.

На каком расстоянии до пересечения дорог устанавливается этот знак вне населенного пункта?



1. 20-50 м.
2. 50-100 м.
3. 100-150 м.
4. 150-300 м.

В каком месте разрешена остановка с целью длительного отдыха?



1. На предусмотренной для этого площадке.
2. На обочине дороги.
3. В любом месте.

Какие внешние световые приборы должен включить водитель при развороте?



1. Указатель поворота.
2. Ближний свет фар.
3. Габаритные огни.

БИЛЕТ 82

Какими органами производится регистрация самоходных машин?

1. Органами ГИБДД.
2. Органами Ростехнадзора.
3. Транспортной инспекцией.
4. Органами, указанными в пунктах 1 и 2.
5. Органами, указанными в пунктах 2 и 3.

При повороте налево:



1. Вы имеете право проехать первым.
2. Должны пропустить трамвай.

Как Вы должны поступить в данной ситуации?



1. При отсутствии других транспортных средств проехать перекресток без остановки.
2. Остановиться у стоп-линий, а при ее отсутствии - перед краем пересекаемой проезжей части, уступив дорогу транспортным средствам, движущимся по пересекаемой дороге.

В каком направлении Вам разрешено продолжить движение?



1. А.
2. В.
3. С.
4. А и В.
5. В любом.

Каким транспортным средствам разрешено движение по автомагистрали?



1. Всем транспортным средствам.
2. А.
3. В и D.
4. С.
5. А и С.

БИЛЕТ 82

Как должен поступить водитель транспортного средства при выезде на грунтовую дорогу в данной ситуации?



1. Выехав на дорогу, пропустить движущихся по ней животных и пешехода.
2. Выехать на дорогу, не уступая животным и пешеходу.
3. Не выезжая на грунтовую дорогу, подождать, пока пешеход и животные не покинут ее.

Какой из знаков указывает на главную дорогу?




1. А и D.
2. С.
3. D.
4. А и С.
5. Все знаки.

Обязан ли водитель, начиная движение с обочины дороги, включить указатели поворота?



1. Обязан.
2. Не обязан.
3. При отсутствии других транспортных средств - по усмотрению водителя.

Какая линия разметки обозначает места, где запрещена стоянка транспортных средств?



1. А.
2. В.
3. С.
4. А и С.

Разрешено ли водителю трактора объехать стоящий перед железнодорожным переездом легковой автомобиль?



1. Разрешено.
2. Запрещено.

БИЛЕТ 83

Что служит сигналом остановки поезда в случае вынужденной остановки Вашего транспортного средства на железнодорожном переезде?

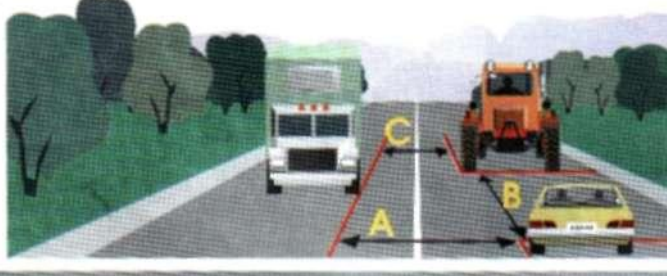
1. Круговое движение руки (днем – с лоскутом материи или хорошо видимым предметом, ночью – с факелом или фонарем).
2. Серии из одного длинного и трех коротких звуковых сигналов.
3. Оба перечисленных способа.

Водитель какого транспортного средства правильно выезжает на перекресток с круговым движением?



1. Водитель А.
2. Водитель В.
3. Оба водителя – правильно.
4. Оба водителя – неправильно.

Где указана дистанция между транспортными средствами?



1. А и С.
2. В.
3. А, В и С.

Разрешено ли Вам продолжить движение прямо?



1. Разрешено.
2. Запрещено.

Разрешено ли Вам совершить обгон в данной ситуации?



1. Разрешено.
2. Запрещено.

БИЛЕТ 83

С какой максимальной скоростью водитель трактора может двигаться по данной дороге?



1. 30 км/ч.
2. 60 км/ч.
3. 40 км/ч.

рj Что обозначает желтая линия разметки?



1. Место, где запрещена стоянка.
2. Место, где запрещена остановка.
3. Место остановки маршрутных транспортных средств.

Разрешено ли транспортному средству в данном месте выехать на поле?



1. Разрешено.
2. Запрещено.

На каком расстоянии до опасного участка дороги устанавливаются эти знаки в населенном пункте?



1. 15-20 м.
2. 50-100 м.
3. 100-150 м.
4. 150-300 м.

Разрешена ли буксировка транспортного средства с неисправной тормозной системой, если его фактическая масса превышает половину фактической массы буксирующего транспортного средства?



1. Запрещена.
2. Разрешена при наличии разрешения гостехнадзора.
3. Разрешена на жесткой сцепке.

БИЛЕТ 84

Перевозка груза запрещена, если он:

1. Ограничивает водителю обзор.
2. Затрудняет управление и нарушает устойчивость транспортного средства.
3. Закрывает внешние световые приборы и световозвращатели, регистрационные и опознавательные знаки.
4. Создает шум, пылит, загрязняет дорогу и окружающую среду.
5. Во всех перечисленных случаях.



1. Легковой автомобиль с включенным проблесковым маячком синего цвета и специальным звуковым сигналом.
2. Трактор.
3. Грузовой автомобиль.

При затрудненном движении разрешено ли водителю трактора выехать на полосу встречного движения?



1. Разрешено.
2. Запрещено.

В каком месте Вы должны остановиться перед перекрестком?



1. Перед знаком "STOP".
2. Перед стоп-линией.
3. Перед краем пересекаемой проезжей части.

Разрешено ли Вам превысить скорость, указанную на знаке "Ограничение максимальной скорости", установленном на Вашем транспортном средстве?



1. Разрешено при условии обеспечения безопасности движения.
2. Разрешено при движении вне населенного пункта.
3. Запрещено.

БИЛЕТ 84

¿f Как Вы должны поступить в данном случае?



1. Продолжить движение.
2. Уступить дорогу пешеходам.

Что обозначает данная вертикальная разметка?



1. Край проезжей части.
2. Боковые поверхности ограждений дорог на опасных участках.
3. Боковые поверхности ограждений дорог на других участках.

В каком месте должен остановиться водитель трактора при отсутствии шлагбаума?



1. Не ближе 5 м до ближайшего рельса.
2. Не ближе 10 м до ближайшего рельса.
3. Непосредственно перед железнодорожным переездом.

¿f Какой из знаков указывает на главную дорогу?



1. А и С.
2. С и D.
3. А.
4. А и В.
5. В.

В каких случаях на транспортном средстве должен быть включен проблесковый маячок оранжевого цвета?



1. При выполнении строительных, ремонтных или уборочных работ на дороге.
2. При перевозке тяжеловесных, крупногабаритных или опасных грузов в случаях, предусмотренных правилами перевозки этих грузов.
3. В случаях, перечисленных в пунктах 1 и 2.

БИЛЕТ 85

В каком случае водитель транспортного средства имеет право при повороте или развороте не занимать соответствующее крайнее положение на проезжей части?

1. Если имеется несколько полос для движения.
2. Если водитель управляет крупногабаритным транспортным средством.
3. Если транспортное средство из-за своих габаритов или по другим причинам не может выполнить поворот или разворот из соответствующего крайнего положения и при условии, что не будут созданы помехи другим транспортным средствам, а также будет обеспечена безопасность дорожного движения.

При повороте направо водитель трактора:



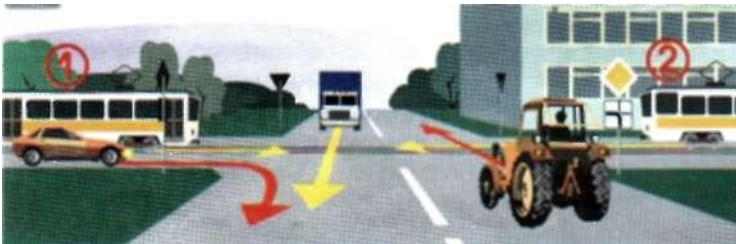
1. Имеет право совершить поворот.
2. Должен дождаться разрешающего сигнала светофора в дополнительной секции.

Разрешено ли водителю трактора продолжить движение?



1. Разрешено.
2. Запрещено.
3. Разрешено повернуть направо.

В каком порядке проедут перекресток транспортные средства?



1. Легковой автомобиль одновременно с трамваем 1, трактор, трамвай 2, грузовой автомобиль.
2. Трамваи 1 и 2, легковой автомобиль, трактор, грузовой автомобиль.

Разрешена ли водителю трактора остановка в данном месте?



1. Разрешена.
2. Запрещена.
3. Разрешена при условии, что не будет создано помех движению трамваев.

БИЛЕТ 85

Нарушают ли пешеходы Правила, двигаясь по проезжей части?



1. Нарушают.
2. Не нарушают.

Разрешается ли заезжать на полосу, обозначенную этим знаком, при въезде во двор налево?



1. Разрешается.
2. Запрещается.

Какие знаки повторяются вне населенных пунктов по мере приближения к опасному участку дороги?



1. А.
2. А и В.
3. С.
4. D.
5. Все перечисленные знаки.

Когда водитель самоходной машины должен включить указатель поворота, если он решил обогнуть гужевую повозку?



1. Заблаговременно до начала выполнения маневра.
2. Подъехав поближе к гужевой повозке и начав ее обгон.

Разрешено ли Вам продолжить движение через железнодорожный переезд при открытом шлагбауме?



1. Разрешено, если Вы убедились в отсутствии приближающегося поезда.
2. Запрещено.

БИЛЕТ 86

Что обязан контролировать водитель перед началом и во время перевозки грузов?

1. Размещение, крепление и состояние груза во избежание его падения.
2. Чтобы груз не создавал помехи для движения.
3. Все перечисленные требования.

По какой траектории Вы можете продолжить движение?



1. А.
2. С и D.
3. По любой, кроме А.
4. В.

Разрешено ли Вам продолжить движение?



1. Разрешено прямо и направо.
2. Разрешено в любом направлении.
3. Запрещено.

Последним перекресток проедет:



1. Трактор.
2. Грузовой автомобиль.
3. Легковой автомобиль.

В каких случаях на транспортные средства устанавливается знак "Ограничение максимальной скорости"?



1. При перевозке крупногабаритных, тяжеловесных и опасных грузов.
2. В случаях, когда максимальная скорость транспортного средства по технической характеристике ниже определенной Правилами.
3. Во всех перечисленных случаях.

БИЛЕТ 86

Как должен поступить водитель трактора, если вне пешеходного перехода на проезжей части находится слепой пешеход, подающий сигнал белой тростью?



1. Обязан пропустить слепого пешехода.
2. Продолжить движение, так как в данном месте нет пешеходного перехода.

Какой знак обязывает водителя уступить дорогу транспортным средствам, движущимся по пересекаемой дороге?



1. А.
2. В.
3. С.
4. D.

Правильно ли остановился водитель трактора?



1. Правильно.
2. Неправильно.

В каких случаях разрешается пересекать данную линию разметки?



1. При отключенных реверсивных светофорах, если линия расположена справа от водителя.
2. При включенных реверсивных светофорах, если разрешено движение в данном направлении.
3. Разрешается пересекать при отключенных светофорах.
4. В случаях, перечисленных в пунктах 1 и 2.

За сколько метров до железнодорожного переезда разрешено обогнуть тихоходное транспортное средство?



1. За 50 м.
2. За 50-100 м.
3. Не ближе 100м.

БИЛЕТ 87

В течение какого времени действует государственный регистрационный знак "ТРАНЗИТ"?

- 1. 1-20 суток.
- 2. 5-20 суток.
- 3. 5-30 суток.

В каких направлениях Вы можете продолжить движение?



- 1. В любом направлении.
- 2. С и D.
- 3. B, C, D.

Как должен поступить водитель трактора в данной ситуации?



- 1. Совершить обгон грузового автомобиля с правой стороны.
- 2. Подождать, пока грузовой автомобиль совершит маневр, затем продолжить движение.
- 3. Совершить обгон грузового автомобиля с левой стороны.

Разрешено ли Вам обогнать неисправный автомобиль, движущийся со скоростью 20 км/ч?



- 1. Разрешено.
- 2. Запрещено.

Что обозначает надпись "СТОП" на проезжей части?



- 1. Предупреждает о приближении к стоп-линий, когда она применяется в сочетании со знаком 2.5.
- 2. Предупреждает о приближении к перекрестку, где водитель должен уступить дорогу.
- 3. Предупреждает о приближении к стоп-линий.

БИЛЕТ 87

Каким транспортным средствам разрешена стоянка в указанном месте?




1. Любым транспортным средствам.
2. Только легковым автомобилям и мотоциклам.
3. Легковым автомобилям, мотоциклам и внедорожным транспортным средствам.

Что обозначает данный знак в населенном пункте?



1. Через 150-300 м пешеходный переход.
2. Через 50-100 м пешеходный переход.
3. Сразу за знаком пешеходный переход.

Разрешено ли Вам продолжить движение?



1. Разрешено.
2. Запрещено.

Какие внешние световые приборы должны быть включены на прицепе при въезде в тоннель?



1. Габаритные огни.
2. Аварийная сигнализация.

Что должно иметь для Вас решающее значение при выборе скорости движения, если скорость движения транспортного потока не превышает 10 км/ч?



1. Допустимая максимальная скорость движения Вашего транспортного средства.
2. Интенсивность движения транспортного потока.

БИЛЕТ 88

В каких случаях водитель должен включить аварийную сигнализацию?

1. При дорожно-транспортном происшествии.
2. При вынужденной остановке в местах, где она запрещена.
3. При ослеплении водителя светом фар.
4. На буксируемом транспортном средстве.
5. Во всех перечисленных случаях.

Как Вы должны поступить в данной ситуации?



1. Продолжить движение без остановки.
2. Остановиться у стоп-линий, а затем продолжить движение.

Транспортные средства проедут перекресток в следующем порядке:



1. Трамвай, грузовой автомобиль, трактор.
2. Грузовой автомобиль, трамвай, трактор.
3. Трактор, трамвай, грузовой автомобиль.

Разрешено ли водителю развернуться в тоннеле?



1. Разрешено.
2. Запрещено.

Как должен поступить водитель трактора в данной ситуации?



1. Продолжить движение.
2. Снизить скорость, при необходимости остановиться и пропустить группу детей.

БИЛЕТ 88

Какими способами водитель может привлечь внимание водителя обгоняемого транспортного средства и подать сигнал о своем намерении совершить обгон вне населенного пункта?




1. Звуковым сигналом.
2. Световым сигналом.
3. Любым из перечисленных способов.

71 Какой из знаков указывает на автомагистраль?



1. А и D.
2. С.
3. D.
4. А.
5. Все знаки.

1 Разрешена ли остановка в указанном месте?



1. Разрешена.
2. Запрещена.

В каких случаях разрешается пересекать сплошную линию разметки?



1. Если она обозначает границы полос одного направления и водителю необходимо выполнить маневр.
2. Если она находится справа от водителя.
3. Если она применена для обозначения края проезжей части.

Два попеременно мигающих красных сигнала светофора:



1. Разрешают движение.
2. Запрещают движение.
3. Разрешают движение с особой осторожностью.

БИЛЕТ 89

Запрещена буксировка:

1. Двух и более транспортных средств одновременно.
2. В гололедицу на гибкой сцепке.
3. Мотоциклов без бокового прицепа.
4. Во всех перечисленных случаях.
5. В случаях, перечисленных в пунктах 1 и 2.

Первым проедет перекресток:



1. Легковой автомобиль.
2. Трактор.

Как Вы должны поступить при включении зеленого сигнала светофора, разрешающего Вам движение?



1. Дать возможность пешеходам закончить переход проезжей части.
2. Немедленно начать движение.

При желтом мигающем сигнале светофора, поворачивая налево, водитель трактора (самоходной машины) должен:



1. Проехать перекресток первым.
2. Остановиться и продолжить движение после включения зеленого сигнала.
3. Выехать на перекресток и, пропустив легковой автомобиль, закончить поворот.

Разрешено ли водителю трактора обогнать гужевую повозку?




1. Разрешено.
2. Запрещено.

БИЛЕТ 89

Разрешено ли водителю трактора остановиться в данном месте?



1. Разрешено.
2. Запрещено.



1. Ограничивает габаритную высоту транспортных средств.
2. Обозначает нижний край моста.

На каком рисунке изображен знак железнодорожного переезда со шлагбаумом?



1. А.
2. А и С.
3. В.
4. С.

Разрешено ли водителю трактора двигаться со скоростью более 40 км/ч вне населенного пункта?



1. Разрешено.
2. Запрещено.

На каком расстоянии от неисправного транспортного средства водитель должен выставить знак аварийной остановки вне населенного пункта?



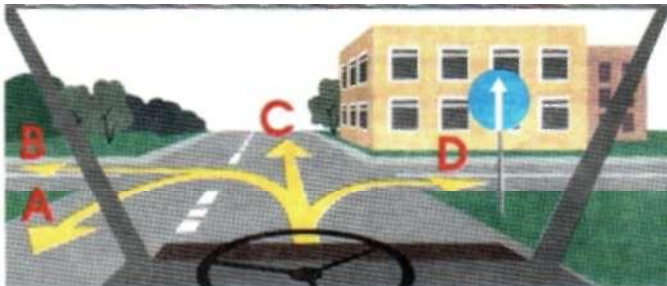
1. Не менее 15 м.
2. Не менее 30 м.
3. Не менее 40 м.
4. Не менее 50 м.

БИЛЕТ 90

Чем должны руководствоваться водители в случаях, когда временные дорожные знаки, установленные на переносной стойке, и линии разметки противоречат друг другу?

1. Значениями временных знаков.
2. Значениями линий разметки.

В каком направлении разрешено продолжить движение?



1. С.
2. С и D.
3. В любом, кроме В.

Транспортные средства проедут перекресток в следующем порядке:



1. Трактор, легковой автомобиль, трамвай.
2. Трамвай, легковой автомобиль, трактор.
3. Трамвай, трактор, легковой автомобиль.

Разрешено ли совершить обгон транспортного средства с выездом на полосу с реверсивным движением?



1. Разрешено.
2. Запрещено.

В каком месте запрещена остановка транспортного средства?



1. На обочине дороги.
2. На проезжей части вблизи опасного поворота.

БИЛЕТ 90

Как должен поступить водитель при съезде с дороги на прилегающую территорию?




1. Уступить дорогу пешеходу и велосипедисту, путь движения которых он пересекает.
2. Продолжить движение, не уступая дорогу.

Какой из этих знаков обозначает конец зоны действия нескольких знаков?



1. А и В.
2. С.
3. D.
4. А.

Разрешено ли проехать через железнодорожный переезд, если скорость движения транспортного средства менее 8 км/ч?



1. Разрешено.
2. Запрещено.
3. Разрешено только с согласия начальника участка пути железной дороги.

Должен ли водитель самоходной машины при обгоне гужевой повозки включить указатель поворота?



1. Должен.
2. Нет, так как гужевая повозка не является механическим транспортным средством.
3. Не должен.

В каких случаях на транспортном средстве должен быть включен проблесковый маячок оранжевого цвета?



1. При выполнении строительных, ремонтных или уборочных работ на дороге.
2. При перевозке тяжеловесных, крупногабаритных или опасных грузов, в случаях, предусмотренных правилами перевозки этих грузов.
3. Во всех перечисленных случаях.